

Tests in Mathe

Lernzielkontrollen 1. Klasse



gemeinsam
wachsen lernen

hauschkverlag

Inhaltsverzeichnis

Wichtige Hinweise	1
1. Zahlen bis 10: Zählen, Zahlen und Strichlisten	2
2. Zahlen bis 10: Zählen, Zahlenreihen und Vergleiche	4
3. Zahlen bis 10: ergänzen und zerlegen	6
4. Plusrechnen bis 10: Zahlen zerlegen, Plusaufgaben	8
5. Rechts, links, oben, unten	10
6. Plusaufgaben bis 10/Bilderaufgaben/Tauschaufgaben	12
7. Minusaufgaben bis 10/Bilderaufgaben/Umkehraufgaben	14
8. Rechnen bis 10	16
9. Rechnen bis 10	18
10. Rechnen mit Geld bis 10	20
11. Flächenformen	22
12. Zahlen bis 20	24
13. Ordnungszahlen/Zahlen bis 20	26
14. Rechnen bis 20 ohne Zehnerübergang	28
15. Plusaufgaben bis 20 mit Zehnerübergang	30
16. Minusaufgaben bis 20 mit Zehnerübergang	32
17. Rechnen bis 20 mit Zehnerübergang	34
18. Schaubilder	36
19. Uhrzeit	38
20. Rechnen mit Geld bis 20	40
21. Rechnen mit Geld – Sachaufgaben	42
22. Schwierige Knobelaufgaben	44
23. Quer durch die 1. Klasse	46
24. Quer durch die 1. Klasse	48
Das Wichtigste aus dem Mathematikunterricht der 1. Klasse	50
Herausnehmbarer Lösungsteil mit einem Rechenbüchlein	nach Seite 26


1. Zahlen bis 10: Zählen, Zahlen und Strichlisten

1 Zahlen und Buchstaben. Kreise nur die Zahlen ein.

L	1	Y	S	2	B	6	5
7	F	4	H	R	3	8	P

/ 8

2 Immer zwei Würfel haben gleich viele Punkte. Male sie mit gleicher Farbe an.



/ 6

3 Male Kreise passend zur Zahl an.

5	3	7	9

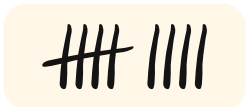




/ 4

4 Zähle und schreibe die passende Zahl dazu.




/ 4

5 Verbinde passend: Punkte und Striche.



/4

6 Zähle und trage ein: Striche und Zahlen.



###					
<input type="text" value="6"/>	<input type="text"/>	<input type="text"/>	<input type="text"/>	<input type="text"/>	<input type="text"/>

/5


Von 31 Punkten hast du _____ erreicht.

6. Plusaufgaben bis 10/Bilderaufgaben/Tauschaufgaben

1 Rechne plus. Kreise das richtige Ergebnis ein.




4 5 **6** 7



4 5 6 7



4 5 6 7



4 5 6 7



6 7 8 9



6 7 8 9




6 7 8 9



6 7 8 9

/7

2 Zusammen sind es 7 Punkte! Male Punkte. Schreibe eine Rechnung.



___ + ___ = 7




___ + ___ = 7




___ + ___ = 7



___ + ___ = 7




___ + ___ = 7



___ + ___ = 7

/6

3 Schreibe eine Plusaufgabe zu jedem Bild. Rechne sie aus.



/4

10. Rechnen mit Geld bis 10

1 Wie viele € sind im Sparschwein? Zähle.

€

€

€

/ 3

2 Immer 5 €: Zeichne Geld. Finde drei verschiedene Möglichkeiten.

5 €

5 €

5 €

/ 3

3 Wie viel fehlt bis 10 ct? Zeichne Münzen dazu.

/ 3


4 Mehr, weniger oder gleich viel Geld? Zähle. Setze ein: >, < oder =.

€
 ○
 €

€
 ○
 €

/ 6

4 Zähle die ausgestreckten Finger.



/ 3

5 Wie viele sind es? Schreibe die Zahl dazu.



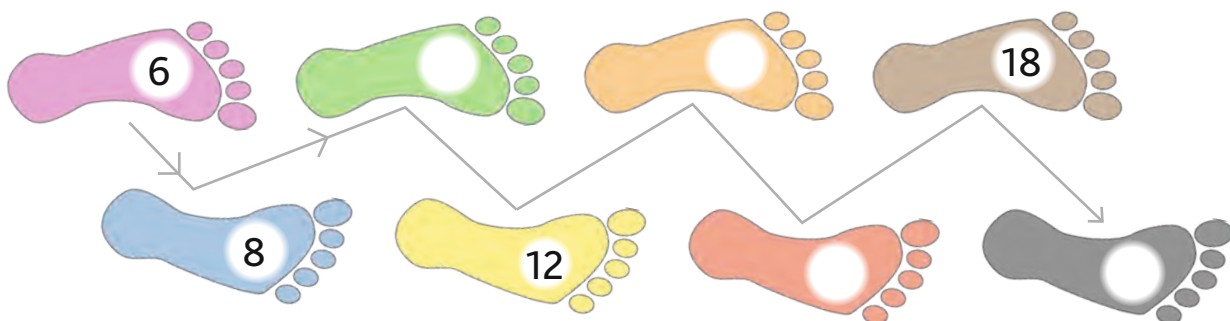
/ 4

6 Male zur Zahl: Zehnerstangen und Einerwürfel ■.

12	17	13	20
----	----	----	----

/ 4

7 2er-Schritte! Schreibe passende Zahlen dazu.



/ 4

Von 30 Punkten hast du _____ erreicht.

23. Quer durch die 1. Klasse

1 Immer zwei Zahlen sind zusammen 20. Verbinde sie.

11 14 7 19 12 5

13 1 9 8 15 6

/ 5

2 Rechenmauern: Zwei Steine nebeneinander ergeben zusammen die Zahl darüber.

5

2 3 5

7 1 8

5 9

5 3

/ 4

3 Wie gehen die Aufgabenreihen weiter? Schreibe und rechne.

$$8 + 2 = \underline{\quad} \quad 16 - 6 = \underline{\quad} \quad 11 - 7 = \underline{\quad}$$

$$8 + 3 = \underline{\quad} \quad 16 - 7 = \underline{\quad} \quad 12 - 7 = \underline{\quad}$$

$$8 + \underline{\quad} = \underline{\quad} \quad 16 - \underline{\quad} = \underline{\quad} \quad \underline{\quad} - 7 = \underline{\quad}$$

/ 6

4 Welche Zahlen fehlen in der Mitte? Rechne.

$$18 \rightarrow + \rightarrow 20$$

$$17 \rightarrow - \rightarrow 12$$

$$9 \rightarrow + \rightarrow 17$$


$$13 \rightarrow - \rightarrow 5$$

$$6 \rightarrow + \rightarrow 11$$

$$15 \rightarrow - \rightarrow 9$$



/ 6

Üben, lernen und Spaß haben mit weiteren Titeln aus dem Hauschka Verlag:



für die 1. Klasse

für die 2. Klasse



Lernzielkontrollen

Quellenverzeichnis:

Seite 10: Hände © Agnes Spiecker (Hauschka Verlag)
 Seite 22: Verkehrsschilder: wikimedia.org
 Suitcase © (istockphoto.com)
 Paket © ID 160476579 (istockphoto.com)
 Dose © Natis (istockphoto.com)
 Topf © karandaev (fotolia.de)
 Toy Block © BillionPhotos.com (fotolia.de)

Cover: schulkind zeigt daumen hoch © Racle Fotodesign (fotolia.de)
 im Lösungsteil: Bastelanleitung © Agnes Spiecker (Hauschka Verlag)



Tests in Mathe

1. Klasse

- 24 Tests zum Überprüfen des Könnens
- zur Vorbereitung auf die Tests in der Schule
- passend zum Lehrplan in Mathematik
- mit Fachbegriffen zum Nachlesen
- geeignet zur Wiederholung in den Ferien
- mit herausnehmbarem Lösungsteil

Noch mehr Titel unter
www.hauschkaverlag.de

ISBN 978-3-88100-181-6

9 783881 001816 [D] € 11,90
[A] € 12,20