

Quer durch die 1. Klasse

Mathe und Deutsch



gemeinsam
wachsen lernen

hauschkaverlag

Dieser Block gehört:

(Dein Name)

Mathe

Muster	1
Zahlen und rechnen bis 10	2-12
Mengen vergleichen	7
Kombinatorik	8
Zahlen und rechnen bis 20	13-38
Farb-Sudoku	14
Geometrische Formen	19, 33
Rechnen mit Geld	20, 27
Lagebegriffe	21
Sachrechnen	22, 32
Uhrzeit	34
Logikrätsel	37

Deutsch

Grammatik

Buchstaben und Laute	39-43
Wortarten	44-49
Sätze	50
Silben und Vokale	51-53
Lesen	54-63

Rechtschreibung

Endungen -el, -en, -er	64
St, Sp, Qu, x, V	65-67
Harte und weiche Laute	68
ä und äu	69
Buchstabenrätsel	70

Schreiben

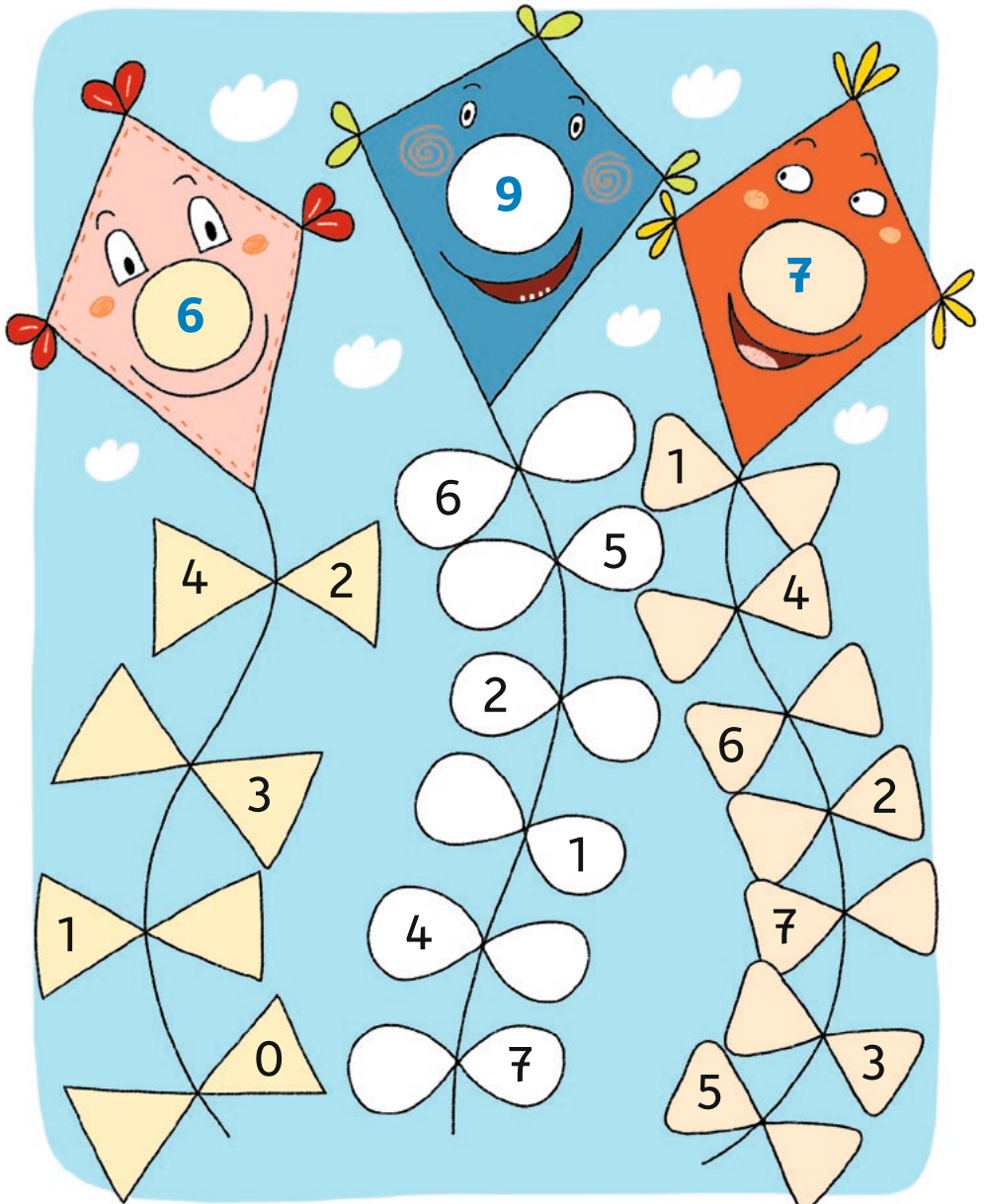
Nachricht schreiben	71
Bildergeschichte	72

Lösungen	73-80
-----------------	-------

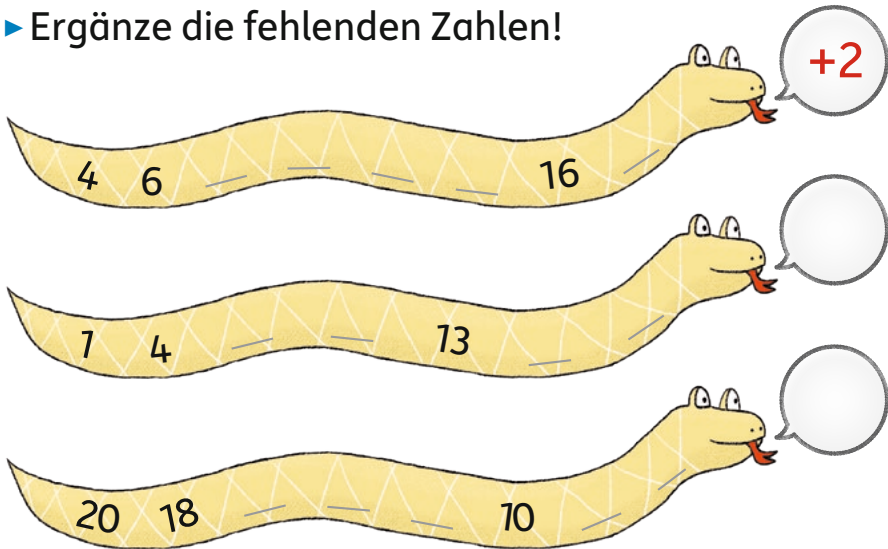


Ich heiße Anton.
Ich begleite dich in
diesem Block und
gebe dir Tipps.

- ▶ Ergänze die Zahlen in den Drachenschleifen!
 Achte darauf, welche Zahl im Drachen steht!
 Rechne plus!

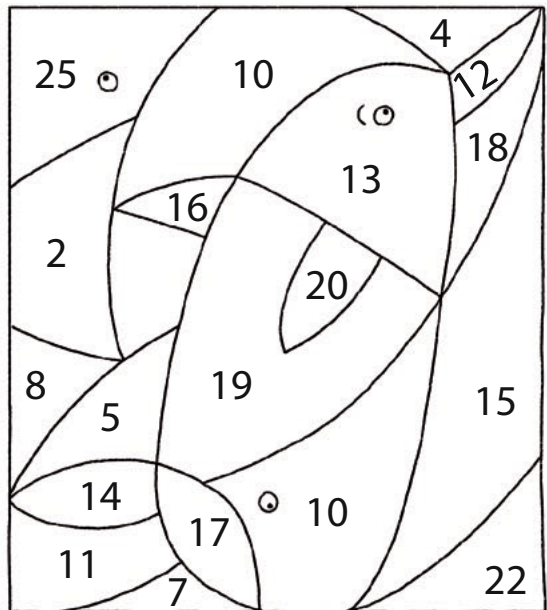


► Ergänze die fehlenden Zahlen!



► Kreise in jeder Zeile immer die **größte** Zahl ein!
Suche die Zahlen im Bild und male die Felder an!

12	17	13
18	11	15
11	10	13
14	12	16
17	20	13
19	12	18
10	14	13
10	12	11



- Lies die Sätze laut und streiche jeweils das falsche Wort durch!

In der Schule **lernen**
schlafen Kinder.

Sie lesen **Texte**
Taxis und rechnen mit **Buchstaben.**
Zahlen.

Der Lehrer schreibt auf die **Tür.**
Tafel.

In der **Pause**
Arbeit spielen und essen alle.

- Schreibe die roten Buchstaben der richtigen Wörter der Reihe nach in die Lücken!


Diese Schule heißt:

Schu__e am

H__e__b__m




► Löse die Purzelwörter und schreibe sie zum richtigen Bild!



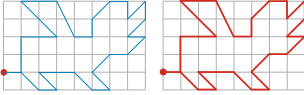
Qu



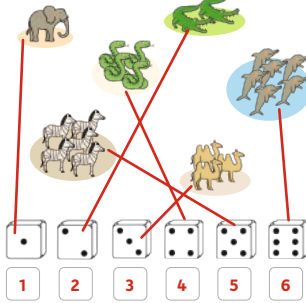
Seite 1



Dein Muster kann natürlich auch anders aussehen.



Seite 2



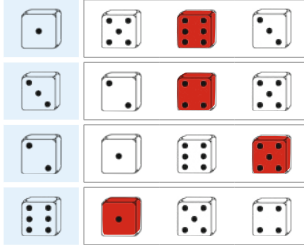
Natürlich gibt es auch andere Lösungen.



Seite 3

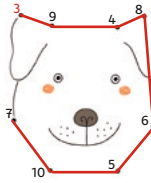


Seite 4

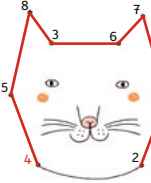


Seite 5

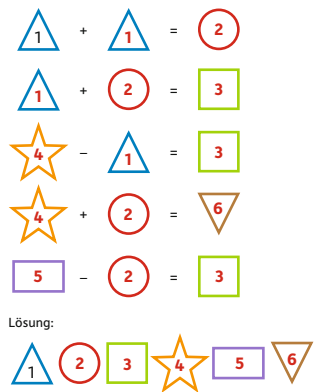
1 + 2 = 3
3 + 6 = 9
1 + 3 = 4
6 + 2 = 8
4 + 2 = 6
2 + 3 = 5
7 + 3 = 10
2 + 5 = 7



7 - 3 = 4
9 - 4 = 5
8 - 0 = 8
6 - 3 = 3
8 - 2 = 6
9 - 2 = 7
6 - 5 = 1
9 - 7 = 2



Seite 6




Lösung:




Seite 7

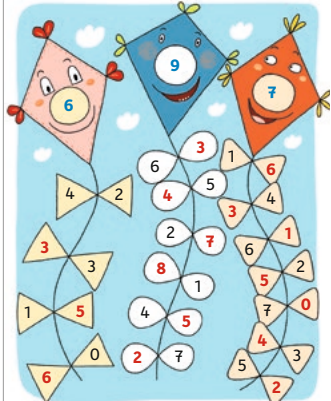
- Ida hat 3 Eiskugeln.
- Nina hat mehr Eiskugeln als Ida.
- Leo hat 2 Eiskugeln weniger als Paul.
- Paul hat eine Eiskugel mehr als Leo.
- Die meisten Eiskugeln hat ein Mädchen.



Seite 8



Seite 9




Üben, lernen und Spaß haben mit weiteren Titeln aus dem Hauschka Verlag:



für die 1. Klasse

für die 2. Klasse



Hauschka Übungsblöcke, Block 661
© 2020 Hauschka Verlag
Lilienthalstr. 1, 82178 Puchheim
Telefon +49 89 8940667-0
Fax +49 89 8940667-69
E-Mail: info@hauschkaverlag.de
www.hauschkaverlag.de

Verfasserin: Andrea Guckel, München
Lektorat: Ulrike Maier, München
Illustrationen: Mascha Greune, München
Gestaltung und Layout: Sina Weiß, München
Druck: PASSAVIA Druckservice GmbH & Co. KG, Passau
Printed in Germany. Alle Rechte vorbehalten.
ISBN 978-3-88100-661-3



Quer durch die 1. Klasse

Mathe und Deutsch

- alle wichtigen Themen der 1. Klasse
- abwechslungsreiche und kindgerechte Übungen
- gut geeignet zur Wiederholung in den Ferien
- ideal für zuhause und unterwegs
- mit Lösungen



Noch mehr Titel unter
www.hauschkaverlag.de

ISBN 978-3-88100-661-3



[D] € 7,90
[A] € 8,10