

# Quer durch die 3. Klasse

Mathe und Deutsch



*gemeinsam  
wachsen lernen*

**hauschkaverlag**

## Mathe

Orientieren und rechnen bis 100	1, 2, 4, 5, 7
Orientieren und rechnen bis 1 000	9, 10, 11, 18, 20, 31
Einmaleins	3, 8, 15, 29, 32
Gewichte	6
Geld	13, 14, 24
Uhr und Zeit	21, 26, 30
Wahrscheinlichkeit	12, 14
Knobelaufgaben	17, 23, 27, 33
Diagramme	16
Geometrie	19, 28
schriftliche Addition	22, 34
schriftliche Subtraktion	25
Plan lesen	30, 35
Textaufgaben	36



Ich heie Anton.  
Ich begleite dich in  
diesem Block und  
gebe dir Tipps.

## Deutsch

### Grammatik

Fachbegriffe	37
Abc	38-39
Nomen	40-44
Wortfamilien	45
Adjektive	46-48
Verben (1. Vergangenheit)	49-51
Satzarten	52
Satzglieder	53-54
Wortfelder	55

### Rechtschreibung

Silben	56
doppelter Konsonant	57
ck	58
ie	59
Dehnungs-h	60
silbentrennendes h	61
Auslautverhartung	62
Fremdwortler	63

### Schreiben

schmuckende Adjektive	66
Steckbrief	67
wortliche Rede	68
Rezept	69
<b>Lesen</b>	70
Ratsel	64, 65, 71, 72

<b>Losungen</b>	73-80
------------------	-------

► Die Freunde spielen ein Ratespiel. Jeder denkt sich eine Zahl und die anderen müssen sie erraten. Hilfst du mit?

Dividiere 56 durch 8, dann erhältst du meine Zahl.  
\_\_\_\_\_



Wenn ich zu meiner Zahl 27 addiere, erhalte ich 99.  
\_\_\_\_\_



Multipliziere ich meine Zahl mit 7, erhalte ich 63.  
\_\_\_\_\_



Wenn ich von meiner Zahl 32 subtrahiere, erhalte ich 59.  
\_\_\_\_\_



Meine Zahl ist die Hälfte von 86.  
\_\_\_\_\_

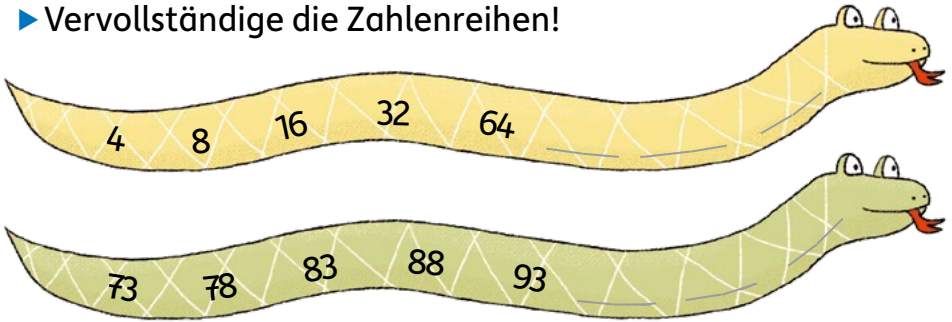


Das 6-Fache meiner Zahl ist halb so groß wie 96.  
\_\_\_\_\_



Multipliziere ich meine Zahl mit 3, so erhalte ich das 4-Fache von 12. \_\_\_\_\_

► Vervollständige die Zahlenreihen!



► Jetzt darfst du knobeln. Findest du die jeweilige Regel für die folgenden Reihen?



Kiwi

Apfel

Banane

Zitrone

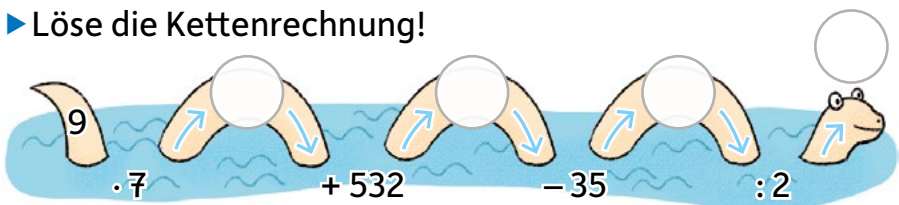
I

T

F

E

► Löse die Kettenrechnung!



► Schreibe die Wörter in der Mehrzahl auf!

Bei manchen ist das nicht möglich. Schreibe die Anfangsbuchstaben dieser Wörter der Reihe nach auf!

Einzahl	Mehrzahl
die Uhr	
der Regen	
das Bein	
die Oma	
das Obst	
der Lehrer	
die Milch	

Die Hauptstadt Italiens heißt \_ \_ \_ !

► Finde zu jedem Bild in der Einzahl die passende Mehrzahl!

											
	6						5				
								4			
							7		1		
			2							3	

► Trage das Lösungswort ein!

1	2	3	4	5	6	7
---	---	---	---	---	---	---

- Lies den Text einmal laut! Was fällt dir auf? Kreise alle überflüssigen Wörter ein! Es sind 13 Wörter zuviel!

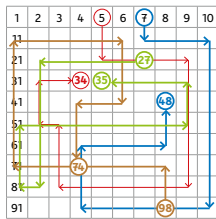
### Annas geheime Botschaften

Anna und Jule sind die besten Freundinnen. Natürlich haben auch die besten Freundinnen Geheimnisse. Um zu verhindern, dass Briefe andere ihre Briefe lesen können, schreiben sie sich gerne über geheime Botschaften. Sie haben schon viele verschiedene Arten ausprobiert. Mal schrieb Anna warmen ihrer Freundin Jule in der Punkteschrift, mal Jule an Anna in einer Toaster-Symbolgeheimschrift. Es war immer spannend, den Text zu entschlüsseln zu halten, und so manches Mal war es sehr knifflig, auf die Lösung zu kommen. Jules neueste Idee hat dann sie in einer Zeitschrift entdeckt. Sie schrieb ihre Nachricht erscheint mit Zitronensaft auf ein Blatt meine Papier und gab es Anna. Da Anna auch nach 3 Tagen keine Idee Nachricht hatte, wie sie die Botschaft entziffern sollte, gab Jule ihr einen Tipp.



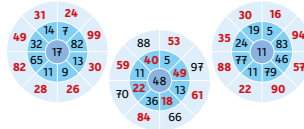
- Die eingekreisten Wörter ergeben einen Lösungssatz. Schreibe ihn auf! Achte auf die Groß- und Kleinschreibung! Welchen Tipp gab Jule ihrer Freundin Anna?

## Seite 1



Blau:  $7 + 10 + 3 + 80 - 6 - 30 + 4 - 20$  **48**  
 Braun:  $98 - 20 - 7 - 60 + 5 + 30 - 2 + 30$  **74**  
 Grün:  $27 - 5 + 60 - 1 - 30 + 8 - 20 - 4$  **35**

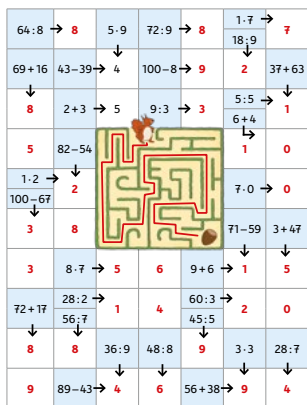
## Seite 2




## Seite 3



## Seite 4



## Seite 5



## Seite 6



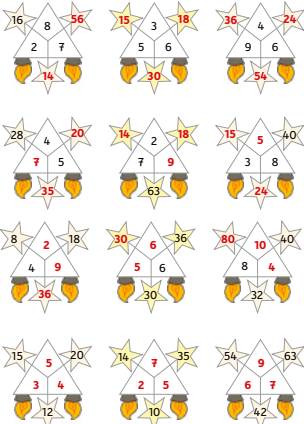
F: Wie viele kg wiegt Lenas kleiner Bruder?  
 R:  $53 \text{ kg} - 28 \text{ kg} = 25 \text{ kg}$   
 A: Lenas kleiner Bruder wiegt 25 kg.

## Seite 7

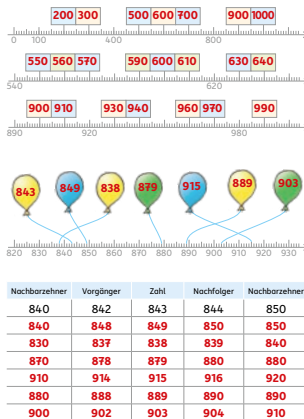


Papa bekommt 11 € zurück.  
 (100 € - 89 € = 11 €)


## Seite 8



## Seite 9




# Üben, lernen und Spaß haben mit weiteren Titeln aus dem Hauschka Verlag:



für die 3. Klasse

für die 4. Klasse



Hauschka Übungsblöcke, Block 663  
© 2021 Hauschka Verlag  
Lilienthalstr. 1, 82178 Puchheim  
Telefon +49 89 8940667-0  
Fax +49 89 8940667-69  
E-Mail: info@hauschkaverlag.de  
www.hauschkaverlag.de

**Verfasserin:** Tina Harder, Aichach  
**Lektorat:** Ulrike Maier, München  
**Illustrationen:** Mascha Greune, München  
**Gestaltung und Layout:** Redaktion Hauschka Verlag  
**Druck:** PASSAVIA Druckservice GmbH & Co. KG, Passau  
Printed in Germany. Alle Rechte vorbehalten.  
ISBN 978-3-88100-663-7






## Quer durch die 3. Klasse

Mathe und Deutsch

- alle wichtigen Themen der 3. Klasse
- abwechslungsreiche und kindgerechte Übungen
- gut geeignet zur Wiederholung in den Ferien
- ideal für zuhause und unterwegs
- mit Lösungen



Noch mehr Titel unter  
[www.hauschkaverlag.de](http://www.hauschkaverlag.de)

ISBN 978-3-88100-663-7



9 783881 006637

[D] € 7,90  
[A] € 8,10